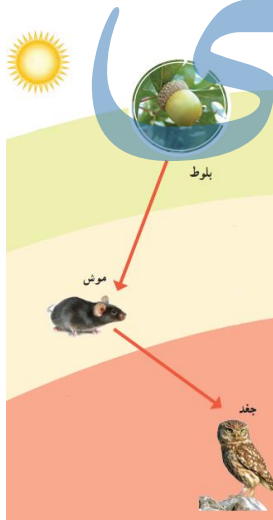


۱- گزینه درست را با علامت تیک مشخص کنید.

- الف) پهناورترین جلگه ایران چه نام دارد؟
۱) گلستان ۲) مازندران ۳) خوزستان ۴) گیلان
- ب) اداره شهر برعهد چه کسی است؟
۱) دهیار ۲) شورا ۳) شهردار ۴) بخشدار
- ج) کدام کوه در رشته کوه البرز قرار دارد؟
۱) سبلان ۲) علم کوه ۳) دنا ۴) سلیمان
- د) بیستون کجا قرار دارد؟
۱) همدان ۲) کرمانشاه ۳) خوزستان ۴) هگمتانه

۲- درست یا نادرست بودن جمله های زیر را مشخص کنید

- الف) حکومت سلوکیان توسط رومی ها نابود شد
ب) سال ایرانی از روزاول فروردین آغاز می شود در آخرین روز اسفندبه پایان می رسد
ج) کتاب مقدس زرتشتیان انجیل است
د) اولین ابزارهای انسان بیشتر چوب بود.



۴- تصویر رو به رو چه چیزی را نشان می دهد

- الف) در این زیستگاه موش دانه ی بلوط را می خورد و جغد موش را می خورد
ب) حال اگر در این ناحیه گیاه بلوط از بین برود چه اتفاقی می افتد؟

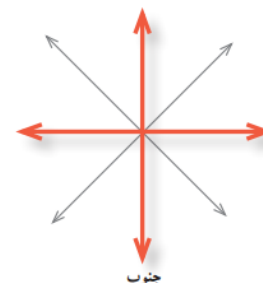
۵- در تصاویر رو به رو مکان خواسته شده را روی شکل نشان دهید؟



قطب شمال، قطب جنوب



قله



جهت های اصلی و فرعی جغرافیایی

۶- در جاهای خالی کلمه مناسب بنویسید.

- الف) پولی که از راه کارکردن به دست می آید..... می گویند
ب) وسیله ای که جهت قطب شمال و جنوب زمین را نشان می دهد..... است
ج) پوشش گیاهی مناطق گرم و خشک و در آن گیاهانی می رویند که در مقابل کم آبی مقاوم هستند
د) به شن و ماسه و گل ولایی که رودها همراه خود می برند..... می گویند

۷- به سوالات زیر پاسخ کوتاه دهید

- الف) معمولا اشیاء و آثار تاریخی را کجا نگه داری می کنند؟
ب) اولین گروه از آریایی ها که پس از ورود به ایران حکومت تشکیل دادند چه نام دارند؟
ج) تخت جمشید به فرمان چه کسی ساخته شد؟

۸- به سوالات زیر با دقت پاسخ دهید

- الف) در مسجد معمولا چه کارهایی انجام و چه مراسمی برگزار می شود؟

جزوه سیپی

ب) سه پایه ی اصلی دین زرتشت را نام ببرید؟
ج) جلگه چگونه به وجود می آید؟


ر) نام ناحیه آب و هوایی هر تصویر را بنویسید



ج



ب



الف

ه) روز جمعه مخصوص چه کارهایی هست؟

ی) چرا عید نوروز تعطیل است؟ در تعطیلات نوروزی مردم چه کارهایی انجام می دهند؟